

Wochenplan für Klasse 1 b vom 12.04. – 16.04.2021

Zebra B Montag, 12.04.21	Material	Aufgaben	fertig
Deutsch	Zebra B AB  Liesmalheft	Seite 72,73 Meine Osterferien waren schön, weil .... Schreibe in die Linien! 1- 2 Seiten	
Mathe	MinimaxB	Bis Seite 17 fehlende Seiten nachholen, Seite 20 von der leichten Helferaufgabe zur schweren Aufgabe ( $2+ 3= 5$ ; $12+ 3= 15$ )	
Sachunterricht	Insektenhotel	Was ist ein Insektenhotel? Forache (Frag nach) oder schau in der Suchmaschine "" Blinde Kuh "" unter dem Begriff Insektenhotel nach.	
Dienstag, 13.04.21			
Deutsch	Zebra B Liesmalheft AB Aprilwetter	Seite 74, 75 1- 2 Seiten Schreibe zu den Bildern!	
Mathe	Räuber und Goldschatz	Spiele das Spiel Räuber und Goldschatz. Notiere die + Aufgaben und die - Aufgaben in der Tabelle!	
Sachunterricht	Film	Insektenhotel: <a href="https://www.kindernetz.de/wissen/ein-bienenhotel-bauen-100.html">https://www.kindernetz.de/wissen/ein-bienenhotel-bauen-100.html</a>	
Mittwoch, 14.04.21			
Deutsch	Zebra B Liesmalheft AB	Seite 76/77 1- 2 Seiten Zu Ostern 1. Lies und male! 2. Suche Osterwörter im Suchsel! Kreise ein!	
Mathe	AB 1+ 2	Helferaufgaben Schreibe die Helferaufgaben auf die obere Linie! Rechne nun die schwere Aufgabe aus!	
Englisch		"Froggy's family - new words" Link zum Video mit der Wortschatzeinführung: <a href="https://youtu.be/HxaRYJxnQT4">https://youtu.be/HxaRYJxnQT4</a> Arbeitsauftrag: Schau dir das Video mindestens 2x an und sprich die neuen Wörter nach.	

Donnerstag, 15.04.21			
Deutsch	Liesmalheft	Seite 78, 79, 80 1- 2 Seiten	
Mathe	AB 3,4,5	Helferaufgaben Schreibe die Helferaufgaben auf die obere Linie! Rechne nun die schwere Aufgabe aus!	
Englisch		Link zur LearningsApp: <a href="https://learningapps.org/watch?v=puwkbykcc21">https://learningapps.org/watch?v=puwkbykcc21</a> Arbeitsauftrag: Ordne die Bilder dem richtigen Wort zu.	
Freitag, 16.04.21			
Deutsch	Zebra B Liesmalheft	81, 82 Seiten 1 - 2 Seiten	
Mathe	Minimax B	Seite 21 + 23	
Englisch		Link zur LearningApp: <a href="https://learningapps.org/watch?v=p3bvewbc321">https://learningapps.org/watch?v=p3bvewbc321</a> Arbeitsauftrag: Ordne die Bilder dem richtigen Satz zu.	

### Anmerkungen zum Zebraheft

Kinder, die Seite 72- 75 bereits bearbeitet haben, beginnen am Montag mit dem Buchstaben, der als nächstes kommt.


### Insektenhotel

Wir planen im Präsenzunterricht mit den Kindern der Klasse 1a und 1b ein Insektenhotel zu bauen. Hierfür sollen die Kinder Materialien, wie Bambus, leere Konservendosen, Watte, evtl. 12 cm dicke Baumscheiben sammeln. Der Durchmesser ist dann egal.

Link zum Film Insektenhotel siehe Aufgaben Dienstag

Meine Osterferien waren schön,  
weil...

Schreibe und male!



©www.ClipProject.info

---

---

---

---

---




---

A large, empty rectangular box with a black border, occupying the bottom half of the page, intended for drawing.

Datum: \_\_\_\_\_

## LE

S.149



# Zu Ostern

## 1 Lies und male.




Ein Ei ist rot mit gelben Punkten.

Ein Ei hat gelbe und grüne Streifen.

Ein Ei hat blaue Sterne.

Ein Ei kannst du anmalen, wie du magst.



## 2 Finde die Wörter.



Ostern

Osterei

Osternest


Osterhase

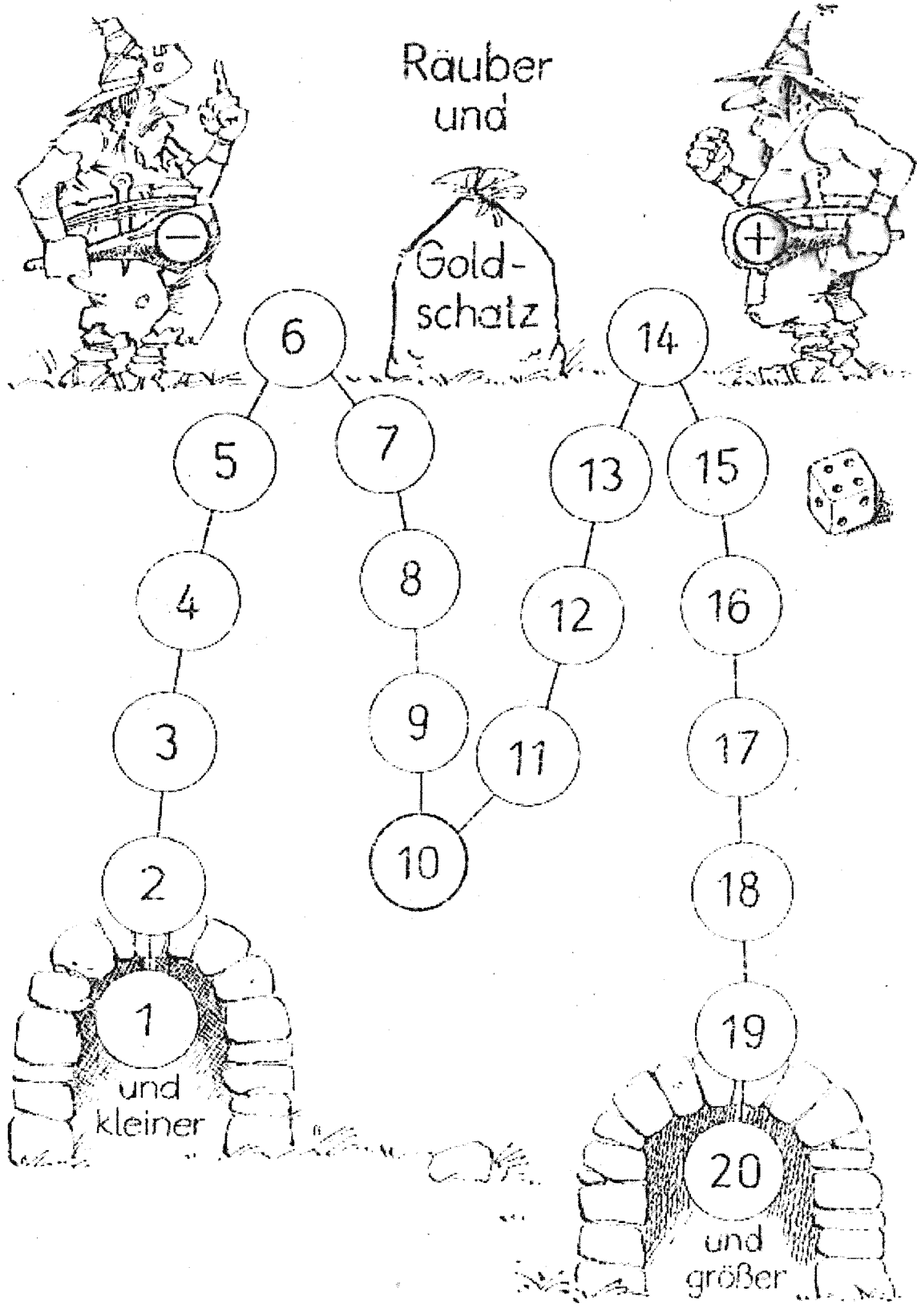
Osterglocke

Osterlamm

Osterzeit

M	R	F	O	S	T	E	R	N	G	L	I
L	O	S	T	E	R	H	A	S	E	B	P
S	W	D	P	O	S	T	E	R	E	I	G
R	T	O	S	T	E	R	L	A	M	M	W
O	S	T	E	R	N	E	S	T	K	B	L
T	O	S	T	E	R	G	L	O	C	K	E
M	O	S	T	E	R	Z	E	I	T	G	D






[illegible]

1

Finde die kleine Helferaufgabe. Rechne dann die kleine und die große Aufgabe.



$$14 + 4 = \underline{\quad}$$

$$13 + 4 = \underline{\quad}$$

$$12 + 3 = \underline{\quad}$$

$$11 + 6 = \underline{\quad}$$

$$15 + 3 = \underline{\quad}$$

$$16 + 2 = \underline{\quad}$$

$$19 + 1 = \underline{\quad}$$

$$17 + 1 = \underline{\quad}$$

$$15 + 2 = \underline{\quad}$$

$$12 + 4 = \underline{\quad}$$

$$18 + 1 = \underline{\quad}$$

$$17 + 3 = \underline{\quad}$$

$$14 + 2 = \underline{\quad}$$

$$15 + 1 = \underline{\quad}$$

$$17 + 2 = \underline{\quad}$$

$$16 + 3 = \underline{\quad}$$

$$13 + 2 = \underline{\quad}$$


$$18 + 2 = \underline{\quad}$$

$$11 + 1 = \underline{\quad}$$

$$12 + 5 = \underline{\quad}$$



Finde die kleine Helferaufgabe. Rechne dann die kleine und die große Aufgabe.



$$18 + 2 = \underline{\quad}$$

$$15 + 2 = \underline{\quad}$$

$$16 + 2 = \underline{\quad}$$

$$17 + 1 = \underline{\quad}$$

$$13 + 7 = \underline{\quad}$$

$$14 + 5 = \underline{\quad}$$

$$11 + 3 = \underline{\quad}$$

$$16 + 3 = \underline{\quad}$$

$$16 + 3 = \underline{\quad}$$

$$11 + 9 = \underline{\quad}$$

$$13 + 6 = \underline{\quad}$$

$$15 + 1 = \underline{\quad}$$

$$13 + 2 = \underline{\quad}$$

$$12 + 4 = \underline{\quad}$$

$$11 + 7 = \underline{\quad}$$

$$15 + 4 = \underline{\quad}$$


$$15 + 4 = \underline{\quad}$$

$$12 + 7 = \underline{\quad}$$

$$18 + 1 = \underline{\quad}$$

$$12 + 5 = \underline{\quad}$$

Finde die kleine Helferaufgabe. Rechne dann die kleine und die große Aufgabe.



$14 + 5 = \underline{\quad}$

$17 + 1 = \underline{\quad}$

$13 + 2 = \underline{\quad}$

$17 + 3 = \underline{\quad}$

$13 + 1 = \underline{\quad}$

$11 + 5 = \underline{\quad}$

$19 + 1 = \underline{\quad}$

$12 + 2 = \underline{\quad}$

$14 + 1 = \underline{\quad}$

$15 + 2 = \underline{\quad}$

$12 + 4 = \underline{\quad}$

$16 + 1 = \underline{\quad}$

$12 + 5 = \underline{\quad}$

$17 + 2 = \underline{\quad}$

$11 + 3 = \underline{\quad}$

$13 + 7 = \underline{\quad}$


$15 + 1 = \underline{\quad}$

$18 + 2 = \underline{\quad}$

$13 + 5 = \underline{\quad}$

$11 + 2 = \underline{\quad}$

Finde die kleine Helferaufgabe. Rechne dann die kleine und die große Aufgabe.



$19 + 1 = \underline{\quad}$

$12 + 7 = \underline{\quad}$

$12 + 6 = \underline{\quad}$

$16 + 3 = \underline{\quad}$

$13 + 6 = \underline{\quad}$

$14 + 4 = \underline{\quad}$

$13 + 4 = \underline{\quad}$

$14 + 1 = \underline{\quad}$

$17 + 1 = \underline{\quad}$

$13 + 7 = \underline{\quad}$

$15 + 4 = \underline{\quad}$

$18 + 2 = \underline{\quad}$

$14 + 6 = \underline{\quad}$

$17 + 3 = \underline{\quad}$

$16 + 2 = \underline{\quad}$

$14 + 3 = \underline{\quad}$


$11 + 5 = \underline{\quad}$

$18 + 1 = \underline{\quad}$

$12 + 4 = \underline{\quad}$

$12 + 8 = \underline{\quad}$

Finde die kleine Helferaufgabe. Rechne dann die kleine und die große Aufgabe.



$12 + 2 = \underline{\quad}$

$\underline{\quad}$

$13 + 5 = \underline{\quad}$

$11 + 3 = \underline{\quad}$

$11 + 9 = \underline{\quad}$

$11 + 1 = \underline{\quad}$

$\underline{\quad}$

$12 + 7 = \underline{\quad}$

$17 + 1 = \underline{\quad}$

$15 + 5 = \underline{\quad}$

$13 + 7 = \underline{\quad}$

$\underline{\quad}$

$16 + 2 = \underline{\quad}$

$19 + 1 = \underline{\quad}$

$18 + 1 = \underline{\quad}$

$13 + 3 = \underline{\quad}$

$\underline{\quad}$

$13 + 4 = \underline{\quad}$

$12 + 5 = \underline{\quad}$

$16 + 4 = \underline{\quad}$

$11 + 4 = \underline{\quad}$

$\underline{\quad}$

$16 + 3 = \underline{\quad}$


$13 + 2 = \underline{\quad}$

$13 + 6 = \underline{\quad}$



6

Finde die kleine Helferaufgabe. Rechne dann die kleine und die große Aufgabe.



\_\_\_\_\_

$19 + 1 =$  \_\_\_\_\_

\_\_\_\_\_

$13 + 2 =$  \_\_\_\_\_

\_\_\_\_\_

$16 + 1 =$  \_\_\_\_\_

\_\_\_\_\_

$13 + 3 =$  \_\_\_\_\_

\_\_\_\_\_

$17 + 3 =$  \_\_\_\_\_

\_\_\_\_\_

$14 + 5 =$  \_\_\_\_\_

\_\_\_\_\_

$14 + 4 =$  \_\_\_\_\_

\_\_\_\_\_

$13 + 1 =$  \_\_\_\_\_

\_\_\_\_\_

$13 + 7 =$  \_\_\_\_\_

\_\_\_\_\_

$18 + 2 =$  \_\_\_\_\_

\_\_\_\_\_

$13 + 6 =$  \_\_\_\_\_

\_\_\_\_\_

$17 + 1 =$  \_\_\_\_\_

\_\_\_\_\_

$16 + 4 =$  \_\_\_\_\_

\_\_\_\_\_

$12 + 4 =$  \_\_\_\_\_

\_\_\_\_\_

$17 + 2 =$  \_\_\_\_\_

\_\_\_\_\_

$15 + 4 =$  \_\_\_\_\_

\_\_\_\_\_

$11 + 2 =$  \_\_\_\_\_

\_\_\_\_\_

$14 + 6 =$  \_\_\_\_\_

\_\_\_\_\_

$12 + 8 =$  \_\_\_\_\_

\_\_\_\_\_

$15 + 1 =$  \_\_\_\_\_